

• De acordo com o comando a que cada um dos itens de 1 a 120 se refira, marque, na **folha de respostas**, para cada item: o campo designado com o código **C**, caso julgue o item **CERTO**; ou o campo designado com o código **E**, caso julgue o item **ERRADO**. A ausência de marcação ou a marcação de ambos os campos não serão apenadas, ou seja, não receberão pontuação negativa. Para as devidas marcações, use a folha de rascunho e, posteriormente, a **folha de respostas**, que é o único documento válido para a correção das suas provas.

• Nos itens que avaliam **Noções de Informática**, a menos que seja explicitamente informado o contrário, considere que todos os programas mencionados estão em configuração-padrão, em português, que o *mouse* está configurado para pessoas destros e que expressões como clicar, clique simples e clique duplo referem-se a cliques com o botão esquerdo do *mouse*. Considere também que não há restrições de proteção, de funcionamento e de uso em relação aos programas, arquivos, diretórios e equipamentos mencionados.

## CONHECIMENTOS BÁSICOS

1 O Tribunal Superior do Trabalho começa a  
colocar em prática uma série de iniciativas destinadas a  
tornar a justiça mais rápida e eficaz. O Sistema Integrado  
4 de Informática, um projeto audacioso de interligação de  
todas as 1.135 varas do trabalho, tribunais regionais e o  
TST, cuja execução já está em andamento, abriu o  
7 caminho para o desenvolvimento de programas que  
devem representar um salto de qualidade para a justiça do  
trabalho.

10 É o caso do Peticionamento Eletrônico Nacional,  
que possibilitará o uso do correio eletrônico para a prática  
de atos processuais a partir de qualquer ponto do país, e  
13 da Carta Precatória Nacional, por meio da qual o juiz do  
trabalho poderá se comunicar com outro juiz, do mesmo  
estado ou não, para requerer a citação de alguém, a  
16 tomada de depoimentos de testemunhas ou até mesmo a  
execução de bens. A idéia é facilitar o acesso ao Poder  
Judiciário e fazer com que suas decisões tenham  
19 efetividade no menor prazo possível.

Internet: <<http://www.tst.gov.br/noticias>>. Acesso em 25/10/2004 (com adaptações).

Em relação ao texto acima, julgue os itens a seguir.

- 1 Infere-se das informações do texto que a justiça não tem sido satisfatória e suficientemente rápida e eficaz.
- 2 O texto apresenta argumentos que explicam por que a informática é inadequada para utilização em certos atos processuais próprios da justiça do trabalho.
- 3 Há uma seleção de vocabulário e de estruturas sintáticas no texto que o torna incompatível com as exigências de formalidade da redação oficial.
- 4 Estaria gramaticalmente correta a substituição do trecho destacado em “para a justiça do trabalho” (ℓ.8-9) por qualquer uma das seguintes formas: **da, na, em relação à, quanto à**.
- 5 A vírgula após “alguém” (ℓ.15) justifica-se por marcar o primeiro elemento de uma enumeração de termos que têm a mesma função sintática.

Em cada item a seguir, são apresentadas duas versões de um fragmento de um texto adaptado. Julgue-os quanto à correção de ambas as versões.

6 O governo federal está combatendo com rigor, o trabalho escravo no país, prática condenada pela sociedade e que vêm causando grande indignação.

O governo federal está combatendo com rigor o trabalho escravo no país, prática que é condenada pela sociedade e que causa grande indignação.

7 Recentemente, o governo desapropriou uma fazenda de 9,9 mil hectares, localizada no município de Marabá, no sudeste do estado do Pará, onde foi constatada a existência de trabalho escravo.

Recentemente, foi desapropriada pelo governo uma fazenda de 9,9 mil hectares, localizada no município de Marabá, no sudeste do estado do Pará, em que se constatou a existência de trabalho escravo.

8 A fazenda foi declarada como de interesse social para fins de reforma agrária em decreto publicado no Diário Oficial.

A fazenda foi declarada como de interesse social para fins de reforma agrária por meio de decreto publicado no Diário Oficial.

9 De acordo com a Constituição Federal, propriedades rurais onde há incidência de trabalho escravo, crime ambiental ou improdutividade podem ser desapropriadas.

Pode ser desapropriada, de acordo com a Constituição Federal, propriedades rurais nas quais há incidência de trabalho escravo, crime ambiental ou improdutividade.

Itens adaptados. Internet: <<http://www.tst.gov.br/noticias>>. Acesso em 27/10/2004.

1 A fazenda que foi desapropriada recentemente pelo governo tem capacidade para o assentamento de 250 famílias e está situada numa região que registra os mais altos índices de  
4 conflito agrário no país. Ela é a primeira propriedade da lista das 101 fazendas que utilizam mão-de-obra escrava no Brasil e que vão ser destinadas à reforma agrária. O decreto de  
7 desapropriação é considerado uma vitória para os trabalhadores rurais e para a reforma agrária. Os movimentos sociais da região lutam pela obtenção da terra há pelo menos seis anos.

Internet: <<http://www.tst.gov.br/noticias>>. Acesso em 27/10/2004 (com adaptações).

Considerando as idéias e as estruturas do texto acima, julgue os itens a seguir.

- 10 Na linha 1, seria correto substituir “que” por **qual**.
- 11 A forma verbal “tem” (ℓ.2) também estaria correta se escrita com acento circunflexo: **têm**.
- 12 O texto permaneceria gramaticalmente correto se a forma verbal “utilizam” (ℓ.5) fosse substituída por **usam** ou por **fazem uso de**.

- 13 Na linha 6, de acordo com as normas de concordância, a expressão “vão ser” poderia ser substituída por **vão serem**, para concordar com a expressão “destinadas à reforma agrária”.
- 14 A substituição de “O decreto de desapropriação é considerado uma vitória” (l.6-7) por **Considera-se o decreto de desapropriação uma vitória** mantém o sentido geral do texto e a correção gramatical da frase.
- 15 O sentido e a correção gramatical do texto serão mantidos, caso a forma verbal “há” (l.9) seja substituída pela preposição **a**.

- 1 Para aperfeiçoar e democratizar os mecanismos de transparência da gestão pública e de combate à corrupção e à impunidade foi instalado o Conselho de Transparência Pública e Combate à Corrupção. Vinculado à Controladoria-Geral da União (CGU), o conselho irá consolidar a política do governo federal de combate ao mau uso dos recursos públicos e à impunidade e tem como atribuições sugerir e debater medidas de aperfeiçoamento dos métodos de controle, incrementar a transparência na administração pública e estimular estratégias de combate à corrupção.

Internet: <<http://www.tst.gov.br/noticias>>. Acesso em 27/10/2004 (com adaptações).


Em relação ao texto acima, julgue os itens que se seguem.

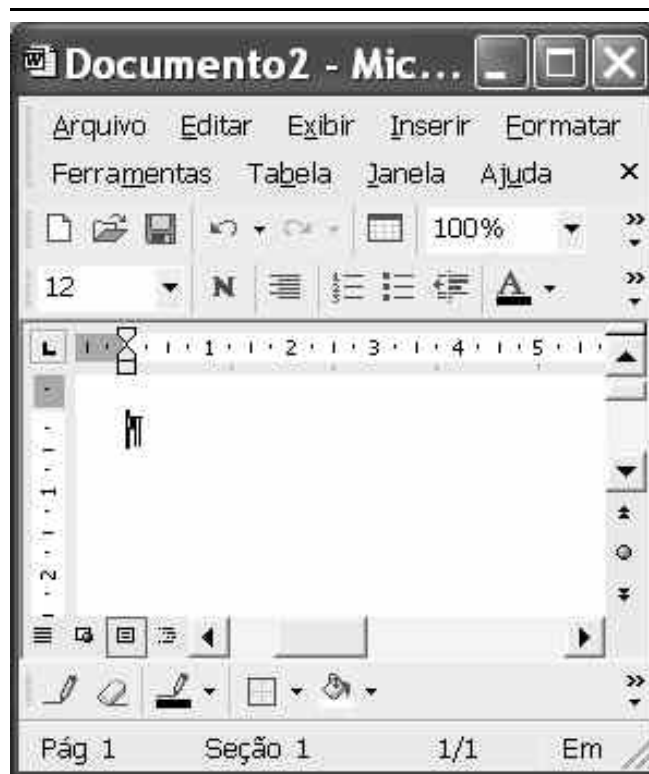
- 16 A substituição de “aperfeiçoar” (l.1) por **aperfeiçoarem** mantém a correção gramatical do período.
- 17 A palavra “Vinculado” (l.4) está no masculino singular para concordar com “conselho” (l.5).
- 18 A substituição de “irá consolidar a política” (l.5) por **consolidaria à política** preserva a correção gramatical do período.
- 19 O emprego de preposição em “ao mau uso” (l.6) e em “à impunidade” (l.6-7) é exigido pela regência da palavra “combate” (l.6).
- 20 Estaria gramaticalmente correto o emprego de sinal de dois-pontos após a palavra “atribuições” (l.7).



Considerando a figura acima, que ilustra uma janela do aplicativo OpenOffice.org 1.1, julgue os itens seguintes.

- 21 No menu **Arquivo**, encontra-se uma opção que permite enviar o documento em edição como arquivo do tipo PDF, anexado a uma mensagem de *e-mail*.

- 22 Ao se clicar o botão , será disponibilizada uma janela contendo algumas figuras geométricas elementares, como círculo, retângulo e elipse. A partir dessas figuras, é possível montar e inserir no documento em edição desenhos mais elaborados.



A figura acima mostra uma janela do Word 2002 sendo executada em um computador cujo sistema operacional é o Windows XP, contendo um documento em branco. Considerando essa figura, julgue os itens seguintes.


- 23 Caso seja inserido no documento em branco texto que ocupe um parágrafo com mais de uma linha, então, com base na figura ilustrada, é correto afirmar que o referido parágrafo estará alinhado à direita.
- 24 Considere que um parágrafo de texto seja inserido no documento com o estilo Normal. Então, caso se deseje modificar a formatação usada nesse estilo, é possível fazê-lo por meio da opção Estilo, encontrada no menu **Formatar**.

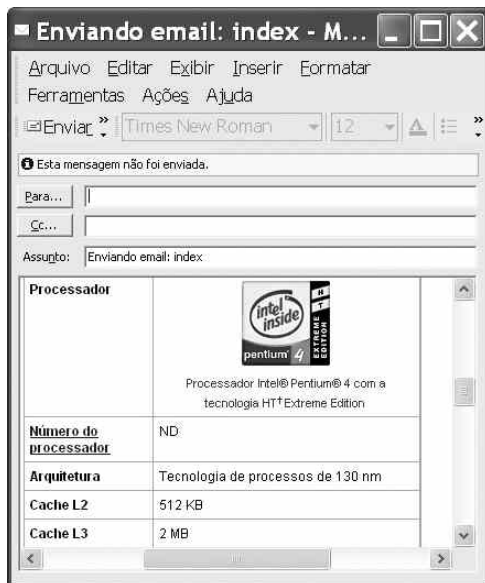


Com o objetivo de obter informações acerca de microprocessadores, um usuário acessou o sítio da Intel — <http://www.intel.com.br> — e, após algumas operações nesse sítio, obteve a página *web* mostrada na janela do Internet Explorer 6 (IE6) ilustrada acima. Considerando essa janela do IE6 e as informações nela contidas, julgue os itens seguintes.

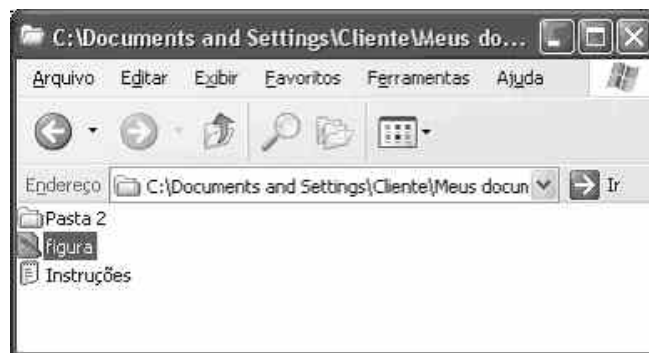
25 Ao especificar que o processador Intel Pentium 4 com tecnologia HT Extreme Edition possui **Cache L3** de 2 MB, é correto concluir que esse processador dispensa o uso de memória RAM, o que diminui o consumo de energia por parte do processador e pode, assim, constituir uma opção adequada para equipamentos do tipo *laptop*.

26 A janela ilustrada a seguir pode ser obtida a partir dos recursos

acessíveis ao se clicar o botão , desde que o IE6 esteja adequadamente configurado.







27 Por meio do *menu* **Ferramentas**, é possível verificar se a página *web* ilustrada contém vírus de computador anexados aos *hyperlinks* existentes nessa página.





A figura acima mostra uma janela do Windows XP. Com relação a essa figura e a esse *software*, julgue os itens seguintes.

28 Ao se clicar o *menu* **Exibir**, é exibida uma lista de opções, entre as quais a opção **Detalhes**, que permite que sejam mostradas algumas informações acerca dos arquivos contidos na pasta em exibição, como, por exemplo, o tamanho de cada arquivo.

29 Ao final da realização da seqüência de instruções a seguir, existirão duas cópias do arquivo , sendo uma na pasta cujo conteúdo está sendo exibido e outra, na pasta ; posicionar o ponteiro do *mouse* sobre o ícone , pressionar e manter pressionado o botão esquerdo do *mouse*; mover o *mouse* de forma que seu ponteiro se posicione sobre o ícone , liberar o botão esquerdo do *mouse*.

	A	B	C	D
1	1		2	
2	3		4	
3				
4				
5				

A figura acima mostra parte de uma janela do Excel 2002, com uma planilha em processo de edição. Com relação a essa figura e ao Excel 2002, julgue o item seguinte.

30 Para se copiar o conteúdo da célula A1 para a célula C2, e centralizar o novo conteúdo da célula C2, é suficiente realizar a seguinte seqüência de ações: clicar a célula A1; clicar o *menu* **Editar**; na lista de opções decorrente dessa ação, clicar **Copiar**; clicar a célula C2; clicar o *menu* **Editar**; na lista de opções decorrente dessa ação, clicar **Copiar**; pressionar simultaneamente as teclas  e .

O presidente da Autoridade Nacional Palestina (ANP), Yasser Arafat, morreu aos 75 anos, após 13 dias internado no hospital militar Percy, perto de Paris. Seu cargo ficará com Rawhi Fattouh, presidente do Conselho Legislativo, até a realização de eleições, que por lei devem ocorrer em 60 dias. Arafat foi o principal e mais controverso líder palestino do século XX. Nascido em 1929 (no Cairo, segundo biógrafos; em Jerusalém, dizia ele), fundou em 1958 a organização clandestina Fatah, embrião da Organização para a Libertação da Palestina (OLP), surgida em 1964. Escapou de mais de 40 atentados. Suas ações foram do terrorismo aos acordos que fixaram um cronograma para o Estado palestino e renderam, em 1994, o Nobel da Paz a ele, Yitzhak Rabin (assassinado em 1995) e Shimon Peres. Eleito presidente da ANP em 1996, Arafat estava confinado por Israel ao seu quartel-general na Cisjordânia desde 2002.

Folha de S. Paulo, 12/11/2004, capa (com adaptações).

Tendo o texto acima como referência inicial e considerando a complexidade do tema por ele abordado, julgue os itens subsequentes.

- 31 Pelo que o texto informa, Arafat modificou-se ao longo de sua trajetória de militante e líder da causa palestina, indo das ações violentas ao estágio da negociação política.
- 32 O fato de a Palestina ainda não se constituir em Estado é um grave obstáculo à paz no Oriente Médio.
- 33 Por suas posições radicais, Arafat jamais encontrou interlocutor em Israel.
- 34 Já bastante debilitado fisicamente, em seus últimos anos de vida Arafat recebeu tratamento respeitoso e condescendente por parte do governo de Israel, o que incluía plena liberdade de locomoção.
- 35 Não há explicação lógica para que Arafat mentisse em relação à sua cidade natal, já que Jerusalém tem importância simbólica para cristãos e judeus, não para os muçulmanos.
- 36 Há, no texto, informação que indica a existência, entre os palestinos, de instituições políticas próprias das democracias, algo que não é comum entre os países árabes.
- 37 Do princípio ao fim, a liderança de Arafat foi unanimemente aceita pelas correntes políticas palestinas e, em geral, pelos demais países árabes.
- 38 O Oriente Médio é uma das mais explosivas regiões do mundo contemporâneo, na qual se mesclam interesses econômicos (petróleo, sobretudo) e profundas diferenças culturais-religiosas.
- 39 O atual governo israelense, chefiado por Ariel Sharon, é conhecido por suas posições duras, o que dificulta os já difíceis caminhos para a paz na região.
- 40 Israel viu sua posição enfraquecer-se nos últimos anos em face da retirada do apoio norte-americano que sempre tivera, em razão de decisão controvertida e inesperada do presidente George W. Bush.

Considere que em um escritório trabalham 11 pessoas: 3 possuem nível superior, 6 têm o nível médio e 2 são de nível fundamental. Será formada, com esses empregados, uma equipe de 4 elementos para realizar um trabalho de pesquisa. Com base nessas informações, julgue os itens seguintes, acerca dessa equipe.

- 41 Se essa equipe for formada somente com empregados de nível médio e fundamental, então essa equipe poderá ser formada de mais de 60 maneiras distintas.
- 42 Se essa equipe incluir todos os empregados de nível fundamental, então essa equipe poderá ser formada de mais de 40 maneiras distintas.
- 43 Formando-se a equipe com dois empregados de nível médio e dois de nível superior, então essa equipe poderá ser formada de, no máximo, 40 maneiras distintas.
- 44 Se a equipe for formada escolhendo-se as pessoas de maneira aleatória, então a probabilidade de que essa equipe contenha todos os empregados de nível superior será inferior a 0,03.
- 45 Se a equipe for formada escolhendo-se as pessoas de maneira aleatória, então a probabilidade de que essa equipe contenha pelo menos uma pessoa de nível fundamental será inferior a 0,55.

Considere uma sala na forma de um paralelepípedo retângulo, com altura igual 3 m e julgue os itens que se seguem.

- 46 Se as medidas dos lados do retângulo da base são 3 m e 5 m, então o volume da sala é superior a 44 m<sup>3</sup>.
- 47 Se as medidas dos lados do retângulo da base são 4 m e 5 m, então a área total do paralelepípedo é inferior a 93 m<sup>2</sup>.
- 48 Se as medidas dos lados do retângulo da base são 6 m e 8 m, então a medida da diagonal desse retângulo é inferior a 9 m.
- 49 Supondo que o perímetro do retângulo da base seja igual a 26 m e que as medidas dos lados desse retângulo sejam números inteiros, então a área máxima possível para o retângulo da base é superior a 41 m<sup>2</sup>.
- 50 Se as medidas dos lados do retângulo da base são 3 m e 4 m, então a medida da diagonal do paralelepípedo é inferior a 6 m.

RASCUNHO

## CONHECIMENTOS ESPECÍFICOS

Considerando que, no âmbito da segurança individual, coletiva e de instalações, um dos aspectos importantes refere-se à proteção contra incêndios, julgue os itens subseqüentes.

- 51 Tão logo o fogo se manifeste, deve-se, sucessivamente e nessa ordem, atacá-lo, o mais rapidamente possível, pelos meios adequados; acionar o sistema de alarme; chamar o corpo de bombeiros e desligar máquinas e aparelhos elétricos, desde que a operação de desligamento não envolva riscos adicionais.
- 52 Os registros dos chuveiros automáticos, também conhecidos como *sprinklers*, devem ser abertos após o acionamento do alarme de incêndio, preferencialmente por especialistas do corpo de bombeiros.
- 53 A depender da forma de propagação do fogo, a água poderá ser corretamente empregada no combate a fogos das classes B, C e D.

Com referência a noções de primeiros socorros, julgue os itens que se seguem.

- 54 No atendimento a vítima de sangramento nasal, deve-se inclinar a cabeça da pessoa para trás, comprimir a narina que estiver sangrando e aplicar compressas frias no local. Depois de alguns minutos, deve-se afrouxar a pressão sobre a narina vagarosamente e orientar a vítima a não assoar o nariz. Após isso, se a hemorragia persistir, deve-se voltar a comprimir a narina e procurar socorro médico.
- 55 Nas ocorrências de sangramento localizado em membros, sejam eles superiores ou inferiores, a medida de primeira escolha para o socorro de urgência deve ser o torniquete.
- 56 Embora se aconselhe que a ressuscitação cardiopulmonar seja feita por pelo menos duas pessoas, em determinadas situações, tal procedimento poderá ser executado por apenas uma pessoa.
- 57 No atendimento a vítima de fratura de membro inferior, um dos procedimentos que pode ser corretamente utilizado antes do atendimento especializado é a imobilização do membro lesionado por meio de talas.
- 58 Apesar da crença popular, no atendimento a casos de lesões provocadas por queimadura, não se deve usar gelo, manteiga, pasta dental ou qualquer coisa que não seja água fria e limpa no local. Também não se deve estourar bolhas ou tentar retirar a roupa colada à pele queimada.
- 59 O quadro de choque é caracterizado por grave diminuição do fluxo sanguíneo e da oxigenação, de maneira que se torna insuficiente para continuar irrigando os tecidos e órgãos vitais do corpo, podendo levar a vítima à morte se não for revertido. No atendimento a esse tipo de quadro, deve-se, entre outras providências, afrouxar as roupas e cintos da vítima e lhe elevar os membros inferiores; entretanto, se houver suspeita de hemorragias no crânio ou de fratura nos membros inferiores, estes não devem ser elevados.

Julgue os itens seguintes, relativos a aspectos geográficos do Brasil.

- 60 Um dos aspectos econômicos mais comemorados pelo atual governo brasileiro refere-se ao fato de a dívida externa, que sempre foi motivo de preocupação para as administrações anteriores, já não mais existir, em razão dos sucessivos e cada vez maiores *superávits* alcançados pelo Brasil no comércio internacional.
- 61 Apesar de, freqüentemente, a PETROBRAS anunciar recordes na atividade de extração de petróleo no território brasileiro, a chamada conta petróleo ainda sofre interferência das oscilações internacionais de preço desse produto, pois parte do combustível consumido no país depende de importações.
- 62 Em visita recente do presidente chinês Hu Jintao ao Brasil, o governo brasileiro reconheceu à China o *status* de país em que vige a economia de mercado. Nesse sentido, uma contrapartida da delegação chinesa é a promessa de encaminhamento de medidas voltadas para garantir a aplicação de leis que respeitem o direito à propriedade intelectual naquele país asiático.
- 63 Preocupado com a iniciativa norte-americana de invadir o Iraque sob alegação de que aquele país teria armas de destruição em massa, o governo brasileiro decidiu interromper as atividades tecnológicas na área de enriquecimento de urânio e desativar as usinas atômicas do projeto Angra, no estado do Rio de Janeiro.
- 64 Apesar de, no cenário ambiental, a floresta amazônica despertar muito interesse da comunidade internacional, a mata atlântica, localizada, como o próprio nome indica, ao longo do território que costeia o oceano Atlântico, ocupa uma superfície duas vezes maior que aquela ocupada pela floresta amazônica.

Julgue os itens a seguir, referentes à legislação de trânsito brasileira.

- 65 Embora não seja passível de punição, o ato de trafegar com veículo sem extintor de incêndio constitui infração passível de punição com a medida administrativa de retenção do veículo para regularização.
- 66 A sinalização de trânsito apresenta a seguinte ordem de prevalência: I – as ordens do agente de trânsito sobre as normas de circulação e outros sinais; II – as indicações do semáforo sobre os demais sinais; III – as indicações dos sinais sobre as demais normas de trânsito.
- 67 O gesto ilustrado na figura ao lado corresponde a uma ordem de parada obrigatória para todos os veículos e, se for executado em uma interseção, também os veículos que já se encontrarem nela serão obrigados a parar.
- 68 Em um trecho de uma via de mão dupla em que seja permitida a ultrapassagem em ambos os sentidos, o leito da via deverá ser sinalizado com faixa simples seccionada pintada na cor amarela.



69 Nas interseções e suas proximidades, o condutor poderá efetuar ultrapassagem, desde que se certifique de que poderá executá-la sem perigo para os demais usuários da via que o seguem, precedem ou vão cruzar com ele, considerando sua posição, sua direção e sua velocidade.

70 Sempre que estiverem trafegando, os veículos destinados a socorro de incêndio e salvamento, os de polícia, os de fiscalização e operação de trânsito e as ambulâncias, além de prioridade de trânsito, gozam de livre circulação, estacionamento e parada.

71 Em uma via rodoviária, a sinalização vertical ilustrada na figura ao lado equivale a uma ordem de parada para os veículos automotores.



72 Considere a seguinte situação hipotética.

Joaquim envolveu seu veículo em um acidente com vítima, à qual não prestou ou providenciou socorro, mesmo estando apto a fazê-lo.

Nessa situação, Joaquim estará sujeito às penalidades de multa e suspensão do direito de dirigir. Esta, entretanto, deverá ser aplicada por decisão fundamentada da autoridade de trânsito competente, em processo administrativo, assegurado a Joaquim amplo direito de defesa.

73 Considere a seguinte situação hipotética.

Em uma via, um condutor de veículo automotor ultrapassou um ciclista, sem guardar a distância lateral de um metro e cinqüenta centímetros ao realizar a ultrapassagem.

Nessa situação, se, adicionalmente, não tiver reduzido a velocidade do próprio veículo de forma compatível com a segurança do trânsito, o condutor será passível de punição com duas multas, pelo cometimento de duas infrações de trânsito.

Com referência a direção defensiva, julgue os seguintes itens.

74 Considerando que o uso dos retrovisores ocorre de forma dinâmica, ou seja, em movimento, é sob essa condição que eles devem ser ajustados, pois, do contrário — com o veículo estacionado —, o ajuste tenderá a ser feito de modo incorreto.

75 Considere a seguinte situação hipotética.

Em um trecho com curva de pequeno raio e de declividade acentuada de determinada via, um condutor, por não ter reduzido a velocidade do veículo de forma a compatibilizá-la com a segurança do trânsito, envolveu-se em um episódio de capotamento do qual, felizmente, saiu-se apenas com ferimentos leves.

Nessa situação, em que pese o infortúnio por que passou, o condutor será passível de punição com multa.

Julgue os itens que se seguem, relativos a conhecimentos básicos de mecânica de automóveis e caminhões.

76 Quando se põe um motor a explosão em funcionamento, os primeiros movimentos do pistão de cada cilindro são feitos por meio de um motor elétrico conhecido como motor de arranque. Depois das primeiras explosões do combustível, o motor de arranque é desligado e os pistões passam a funcionar em ciclos sucessivos de admissão, compressão, explosão e exaustão.

77 Em um veículo automotor, a embreagem exerce duas funções bem distintas: ligar progressivamente o motor às rodas do veículo para levá-lo a uma marcha que corresponda ao regime de rotação do motor; separar momentaneamente o motor dos elementos de transmissão para permitir a mudança de marcha.

78 Diferentemente dos caminhões, em que é visível a distinção entre chassis e carroçaria, nos automóveis esse termos referem-se ao mesmo conceito: armação metálica rígida, formada por elementos reforçados ou nervurados que, soldados uns aos outros, proporcionam a rigidez necessária a suportar os demais elementos do automóvel.

79 No sistema de lubrificação do motor, o óleo lubrificante é responsável por: evitar o contato direto entre as partes metálicas móveis; dissipar, na medida do possível, o calor produzido no interior do motor; carrear, para o filtro de óleo, as impurezas oriundas do aquecimento e do atrito entre as partes móveis.

Em um órgão público chefiado por Paulo, trabalham os servidores José, que é subordinado de Paulo, e Antônio, que é subordinado de José. Paulo solicitou que José determinasse a Antônio a lavagem da pintura de um dos veículos da repartição, que seria usado para o transporte de uma autoridade entre o aeroporto e a sede da repartição. Na oportunidade, Paulo especificou que deveria ser lavado o veículo mais novo e que, após a secagem, o veículo deveria ser encerado.

A respeito dessa situação, em cada item a seguir é apresentada uma situação hipotética, seguida de uma assertiva a ser julgada com relação ao processo de comunicação nas relações humanas.

80 José entendeu que deveria ser lavado um veículo que não fosse o mais novo, razão por que determinou que Antônio lavasse um dos carros mais velhos da frota da repartição. Nessa situação, é correto afirmar que houve ruído no processo de comunicação.

81 Por nutrir aversão a Antônio e desejar prejudicá-lo, José esclareceu que, após ser lavado, o veículo não deveria ser encerado. Nessa situação, José introduziu uma barreira no processo de comunicação.

82 Paulo determinou aos seus subordinados que o atendimento ao público (cliente ou usuários) na repartição priorizasse o cliente. Nessa situação, os servidores da repartição devem evitar o aprofundamento do processo de comunicação com os usuários, a fim de não os inibir.

Em cada um dos itens a seguir, é apresentada uma situação hipotética acerca da ética e qualidade de atendimento no serviço público, seguida de uma assertiva a ser julgada.

- 83 Hélio é servidor público do setor de atendimento de um tribunal judiciário. Ele tem muitos afazeres e, por isso, deixa os clientes à espera de atendimento enquanto resolve os problemas internos do setor. Nessa situação, o comportamento de Hélio caracteriza atitude contrária à ética no serviço público.
- 84 Gabriel é um servidor público exemplar, cortês, disponível e atencioso no trabalho. Ele resiste a todas as pressões de seus superiores hierárquicos e não aceita nenhum presente de clientes em troca de suas ações no trabalho. Nessa situação, Gabriel está cumprindo com ética o desempenho de seu cargo público.
- 85 Marilena é servidora pública de um tribunal judiciário. Ela zela pelo material sob sua guarda, é assídua e pontual, respeita os colegas e privilegia o atendimento de seus superiores hierárquicos, demonstrando total prontidão às requisições deles em detrimento das solicitações de seus colegas e dos usuários do setor. Nessa situação, Marilena apresenta comportamento profissional ético e compatível com a função pública.
- 86 Rodrigo é servidor público e trabalha no setor de assistência social de um tribunal judiciário. Ele atende dezenas de pessoas por dia, é sempre cortês, justo e prestativo no atendimento, e mesmo quando não detém a informação solicitada pelo usuário, ele inova, sugerindo alguma alternativa conforme sua opinião. Nessa situação, o atendimento prestado por Rodrigo é de muita qualidade, pois atende às expectativas dos usuários.

No que se refere ao trabalho em equipe e ao relacionamento interpessoal, julgue os itens seguintes.

- 87 A eficácia do comportamento interpessoal aumenta na medida em que o indivíduo apresenta mais empatia nos relacionamentos pessoais e profissionais.
- 88 Para que o trabalho em equipe seja eficiente e eficaz, é necessário que seus membros tenham competências de integração, criem regras de convivência, não imponham limites e busquem o alcance das metas.
- 89 A opinião pública acerca de um determinado órgão é resultante da qualidade do atendimento prestado, do grau de confiabilidade das informações transmitidas, da adequação das instalações físicas, do nível das relações interpessoais e da prontidão do atendimento.

Acerca dos direitos constitucional e administrativo, julgue os itens a seguir.

- 90 O Tribunal de Contas da União é o órgão do Poder Judiciário competente para aplicar as sanções judiciais que a Constituição da República define para os atos de improbidade administrativa.
- 91 Violaria o princípio constitucional da isonomia a concessão de tratamento fiscal favorecendo empresas de pequeno porte constituídas sob as leis brasileiras e com sede e administração no país.

Em cada um dos itens a seguir, é apresentada uma situação hipotética, seguida de uma assertiva a ser julgada.

- 92 Carlos, servidor lotado no serviço de informática de um tribunal regional do trabalho (TRT), persuadiu o chefe do seu setor a solicitar a aquisição de um determinado *software* que havia sido recentemente desenvolvido pela empresa Softwaf. Após a aquisição do programa, a Softwaf descobriu que a compra havia sido fruto das ingerências de Carlos e resolveu presentear-lo com um *notebook* de última geração. Nessa situação, Carlos cometerá ato de improbidade administrativa se aceitar o presente.
- 93 O diretor-geral de um TRT, por considerar obsoletos os computadores utilizados no serviço de recursos humanos, determinou a aquisição de computadores mais modernos. Nessa situação, o ato que estabeleceu essa determinação constituiu exercício de poder discricionário e, por isso, ele não é sujeito a controle judicial.
- 94 Ao realizar determinada compra pela Internet, no sítio de uma empresa brasileira, Amanda preencheu uma ficha de cadastramento que exigia o fornecimento de uma série de dados pessoais. Nessa situação, respeitando a Constituição da República a empresa deve assegurar o sigilo dos dados fornecidos por Amanda.
- 95 O Distrito Federal (DF) editou lei distrital regulando a prestação do serviço de fornecimento de acesso à Internet por provedores sediados no DF. Nessa situação, a lei é inconstitucional porque invade a competência privativa da União.

Alice recentemente tomou posse em cargo público de provimento em comissão lotado no Ministério do Trabalho e Emprego. Acerca dessa situação, julgue os itens seguintes.

- 96 Alice ocupa cargo comissionado na administração pública direta federal.
- 97 Alice irá adquirir estabilidade quando completar dois anos de efetivo exercício no cargo e for aprovada no estágio probatório.

Acerca do direito constitucional e do direito administrativo, julgue os itens subseqüentes.

- 98 Os decretos legislativos não são submetidos à sanção do presidente da República.
- 99 A edição de medidas provisórias é um ato de competência do presidente da República que ele pratica na qualidade de chefe de governo.

Em cada um dos itens a seguir, é apresentada uma situação hipotética, seguida de uma assertiva a ser julgada.

- 100 Luciano é um adolescente de 13 anos de idade. Nessa situação, a Constituição da República veda o trabalho de Luciano, salvo na condição de aprendiz.
- 101 Maurício nasceu na França, quando o pai e a mãe, brasileiros, estudavam em uma universidade em Paris. Com 15 anos de idade, Maurício veio ao Brasil pela primeira vez e fixou residência no país, onde mora há cinco anos. Nessa situação, mesmo que Maurício opte pela nacionalidade brasileira, ser-lhe-á vedado exercer cargo de ministro do Tribunal Superior do Trabalho, pois esse cargo é privativo de brasileiros natos.

Considerando que Adriano foi recentemente nomeado para cargo público de provimento em comissão no Ministério do Trabalho e Emprego, julgue os seguintes itens.

102 Para entrar em exercício, Adriano precisa apresentar declaração dos bens e valores que compõem seu patrimônio.

103 Adriano não é sujeito a estágio probatório.

104 Adriano responde, independentemente de culpa, pelos prejuízos que suas condutas em serviço causem, eventualmente, a terceiros.

105 Violaria o princípio administrativo da impessoalidade o fato de, no exercício do cargo, Adriano dar precedência aos interesses do partido a que é filiado, em detrimento do interesse público.

Com base nas formalidades da escrituração contábil, julgue o item abaixo.

106 Os livros contábeis obrigatórios e facultativos devem ser registrados na Junta Comercial, quando a sociedade for comercial, ou no Cartório de Registros Especiais, quando a sociedade for civil.

Com relação aos diferentes conceitos de capital, julgue o item a seguir.

107 O capital não subscrito corresponde à parcela do capital autorizado que ainda não foi colocada em circulação. Capital a integralizar corresponde à parcela da obrigação subscrita pelos sócios e ainda não realizada.

Acerca dos princípios contábeis, julgue o item seguinte.

108 O registro de um bem pelo seu custo de aquisição e a atualização periódica de seu valor, por efeito da inflação, estão em consonância com dois princípios contábeis: registro pelo valor original e atualização monetária.

A respeito dos critérios de registro e avaliação dos bens e direitos e obrigações, julgue o item abaixo.

109 O fundo de comércio, por ser um bem intangível ou incorpóreo, independentemente do valor pelo qual possa ter sido adquirido, não é passível de registro no ativo de seu detentor, não integrando o patrimônio contábil.

Em relação a uma operação convencional de desconto de títulos, julgue o item subsequente.

110 Considere a seguinte situação hipotética.

Uma empresa entregou ao banco duplicata no valor de R\$ 5.000,00, emitida em 1.º/10/2001, para ser descontada em 1.º/11/2001. A data de vencimento dessa duplicata é 31/1/2002, ou seja, 3 meses depois da data do desconto, e o banco cobra uma taxa de 5% ao mês, além de despesas bancárias de R\$ 300,00.

Nessa situação, o lançamento efetuado corretamente pela empresa, em 1.º/11/2001, foi o seguinte:

conta	valor (em R\$)
diversos	
a títulos descontados	
bancos – conta movimento	3.950,00
juros e descontos a vencer	750,00
despesas bancárias	300,00
	5.000,00

ativo circulante	R\$	passivo circulante	R\$
bancos – conta movimento	3.000,00	fornecedores	2.000,00
duplicatas a receber	8.000,00	empréstimos	8.000,00
estoques	3.000,00	–	–
despesas antecipadas	1.000,00	–	–
TOTAL	15.000,00		10.000,00

Com base nos dados da tabela acima e considerando os indicadores mais utilizados na análise contábil, julgue os itens a seguir.

111 O quociente de liquidez seca é igual a 1,2.

112 A empresa tem R\$ 14.000,00 em disponíveis e a realizar, e R\$ 10.000,00 a pagar, a curto prazo. Entretanto, a capacidade de pagamento de todas as obrigações nos respectivos prazos de vencimento vai depender dos prazos médios de recebimento das vendas, de pagamento das compras e empréstimos, e da rotação dos estoques.

estoque inicial	600.000,00	vendas	2.400.000,00
estoque final	1.000.000,00	compras	2.400.000,00

Considerando os dados acima (em reais) e os critérios adotados para o cálculo da rotação de valores, julgue o item seguinte.

113 O quociente de rotação de estoques é igual a 3.



Acerca do regimento interno do TRT da 10.<sup>a</sup> Região, julgue os itens seguintes.

114 O TRT da 10.<sup>a</sup> Região tem duas seções especializadas, cada uma delas dividida em duas turmas.

115 Os magistrados que compõem o TRT da 10.<sup>a</sup> Região são chamados de desembargadores trabalhistas.

116 Considere que atualmente o TRT tem todas as suas vagas ocupadas e que compareceram para uma reunião do Tribunal Pleno o presidente e outros sete magistrados. Nessa situação, o Tribunal Pleno não poderá deliberar, em virtude da falta de *quorum*.

117 Nos processos administrativos em que não houver relator designado, o presidente do tribunal deve proferir o primeiro voto.

118 Uma turma do TRT da 10.<sup>a</sup> Região pode declarar a inconstitucionalidade de lei federal, desde que o faça pelo voto de pelo menos três dos seus componentes.

119 São órgãos da justiça do trabalho da 10.<sup>a</sup> Região juntas de conciliação e julgamento compostas de um juiz do trabalho e dois juízes classistas temporários, representantes dos empregados e dos empregadores.

120 Para fins de promoção por merecimento, o percentual de sentenças que o juiz prolatou e que foram reformadas pelo tribunal é um critério inválido para aferir o seu mérito.

RASCUNHO

